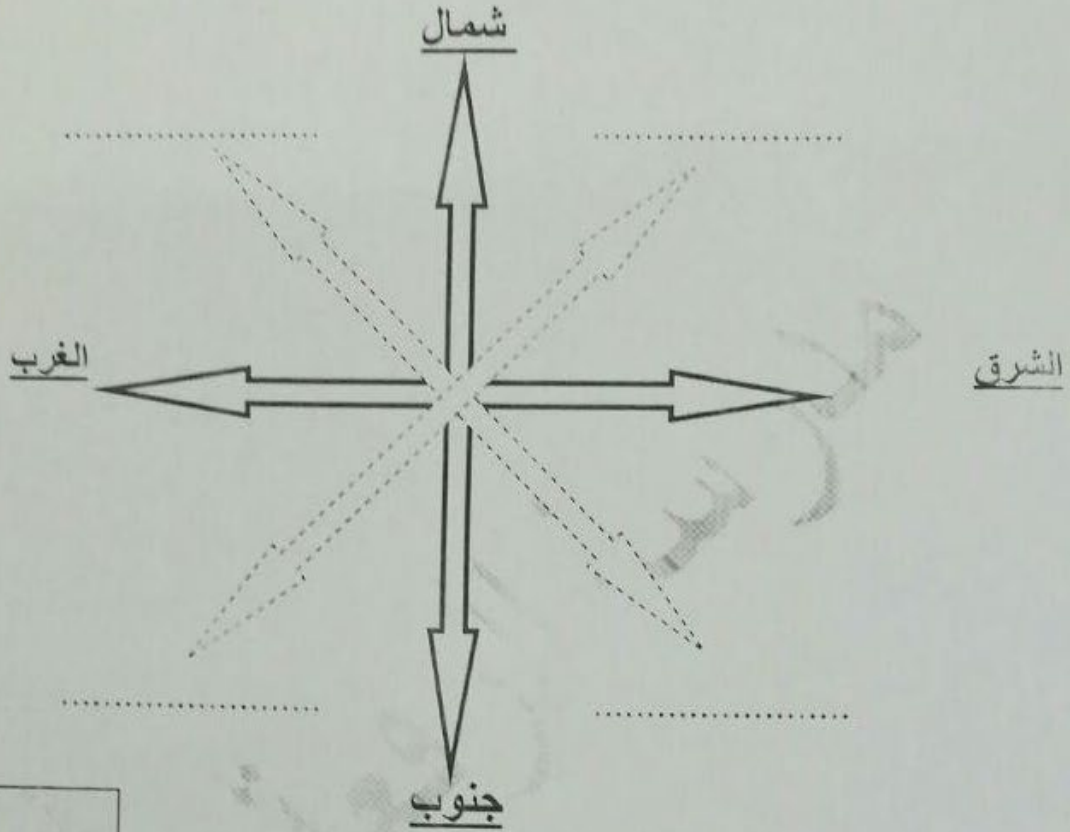
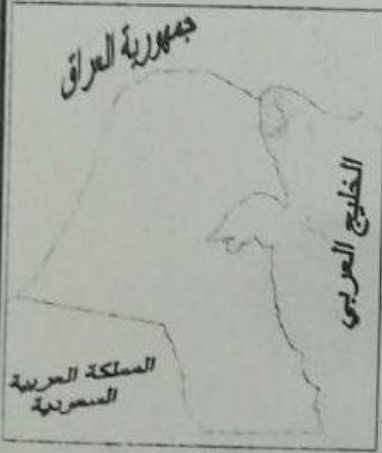




التدريب الأول : (أ) : أكمل المخطط السهمي التالي :



(ب) : أكمل الفراغات التالية مستعينا بالخريطة التي أمامك :

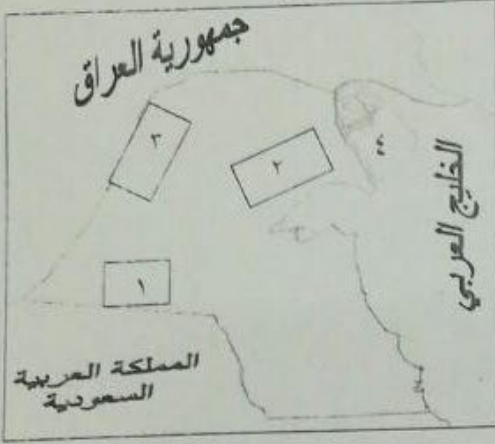


- ١- تحد دولة الكويت من جهة الجنوب والجنوب الغربي دولة
- ٢- يقع الخليج العربي بالنسبة لدولة الكويت في جهة
- ٣- تقع دولة الكويت بالنسبة للوطن العربي في جهة
- ٤- تحد دولة الكويت من جهة الشمال والشمال الغربي دولة

التدريب الثاني : ضع علامة (√) أمام العبارات الصحيحة وعلامة (X) أمام العبارات غير الصحيحة :

- ١- الامير الحالي لدولة الكويت هو الشيخ صباح الاحمد الجابر الصباح . ()
- ٢- تتمتع دولة الكويت بموقع جغرافي مهم منذ القدم . ()
- ٣- تقع دولة الكويت في شمال شرق شبه الجزيرة العربية . ()
- ٤- ينحدر سطح دولة الكويت من الشرق الى الغرب . ()
- ٥- جزيرة فيلكا كانت مأهولة بالسكان . ()

التدريب الأول : (أ) : أكتب مدلول الأرقام التي على الخريطة في الفراغات التالية :



- أ- الرقم (١) على الخريطة يمثل سهل يسمى
- ب- الرقم (٢) على الخريطة يمثل تل اسمه
- ج- الرقم (٣) على الخريطة يمثل وادي اسمه
- د- الرقم (٤) على الخريطة يمثل جزيرة اسمها

(ب) : أكمل الفراغات التالية بما يناسبها مما درست :

- ١- تبلغ مساحة دولة الكويت ألف كيلومتر مربع
- ٢- أكبر جزيرة كويتية مساحة
- ٣- الجزيرة التي تقع داخل جون الكويت تسمى
- ٤- السلطة التي تنفذ القانون تسمى

التدريب الثاني : ضع علامة (√) أمام العبارات الصحيحة وعلامة (x) أمام العبارات غير الصحيحة :

- ١- يبلغ عدد اعضاء مجلس الامة ٤٠ عضواً . ()
- ٢- تحتل دولة الكويت موقعا متوسطا بالنسبة للعالم . ()
- ٣- سطح الأرض غير مستوي . ()
- ٤- يبلغ عدد الجزر الكويتية ٩ جزر . ()

التدريب الثالث: اكتب فيما يلي

أ- اثنين من عناصر الدولة .

..... -

ب - اثنين من عناصر الخريطة .

..... -

ج - اثنين من مميزات سطح بلادي الكويت .

..... -